

Тестирование
«Юные инспекторы движения»
«Безопасность на дороге»

Каждый ответ оценивается по двух бальной системе

2 балла - обучающийся выполняет диагностическое задание полностью

1 балл – обучающийся выполняет диагностическое задание с недочётами

Итог:

34 – 29 баллов – высокий уровень

28 – 20 баллов – средний уровень

менее 20 баллов – низкий уровень

1. Какой из указанных знаков информирует о начале дороги с реверсивным движением?



А



Б



В

2. Можно ли начать обгон?



а) да

б) нет

в) да, если обгон будет завершён до перекрёстка

3. Какие знаки означают, что Вы должны уступить дорогу, если встречный разъезд затруднен?



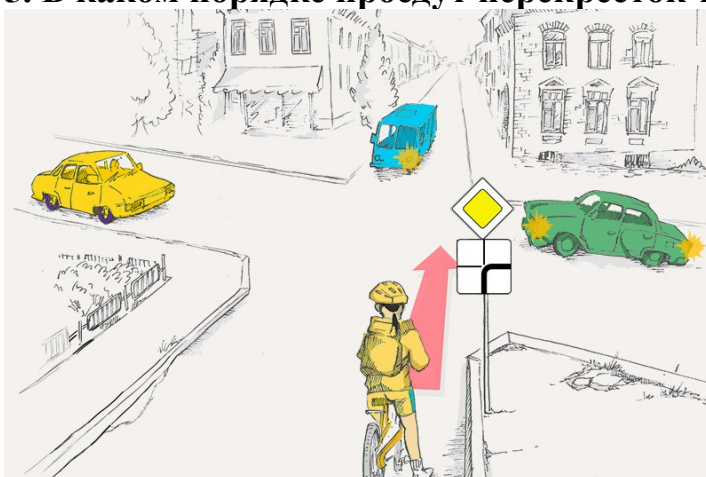
- а) А и Б
- б) Б и В
- в) А и В
- г) Г и Б

4. Кто должен уступить дорогу?



- а) автомобиль
- б) велосипедист

5. В каком порядке проедут перекрёсток транспортные средства?



- а) жёлтый, синий, зелёный, велосипедист
- б) зелёный, велосипедист, жёлтый, синий
- в) зелёный, велосипедист, синий, жёлтый

6. Какой сигнал велосипедиста сообщает об остановке?



а

б

в

7. Вид ДТП



- а) наезд на препятствие
- б) касательное
- в) лобовое
- г) наезд на стоящее транспортное средство

8. Можно ли остановиться в этом месте для посадки и высадки пассажиров?



- а) можно

- б) можно, если при этом не будут созданы помехи движению маршрутных транспортных средств
- в) нельзя

8. Какое кровотечение считается наиболее опасным?

- а) капиллярное
- б) венозное
- в) артериальное

9. Где проводится надавливание на грудную клетку при закрытом массаже сердца?

- а) слева от грудины
- б) справа от грудины
- в) на нижнюю треть грудины

10. Пострадавший находится без сознания. Дыхание, пульс отсутствуют. Ваши действия?

- а) Вызвать «03» и ждать прибытия «скорой помощи».
- б) Позвонить «03», делать искусственное дыхание и непрямой массаж сердца
- в) Положить пострадавшего в благоприятную позу, сделать перевязку, дать обезболивающее средство.

11. Какие признаки открытого перелома?

- а) Сильная боль, припухлость мягких тканей, деформация конечности.
- б) Сильная боль, деформация конечности, поврежден кожный покров.
- в) Синяки, ссадины на коже.


12. Как правильно надеть на пострадавшего рубашку, пиджак при ранении руки?

- а) Одежду надевают сначала на больную руку, а затем на здоровую.
- б) Одежду надевают на обе руки одновременно.
- в) Одежду надевают сначала на здоровую, а затем на больную руку.

13. Чего не должно быть в автомобильной аптечке?

- а) жгут кровоостанавливающий
- б) бинт марлевый медицинский нестерильный
- в) салфетки марлевые медицинские стерильные
- г) лейкопластырь рулонный,
- д) устройство для проведения искусственного дыхания «Рот-Устройство-Рот»
- е) обезболивающие таблетки
- ж) перчатки медицинские нестерильные
- з) маски одноразовые
- и) инструкция по оказанию первой помощи с применением автомобильной аптечки
- к) ножницы

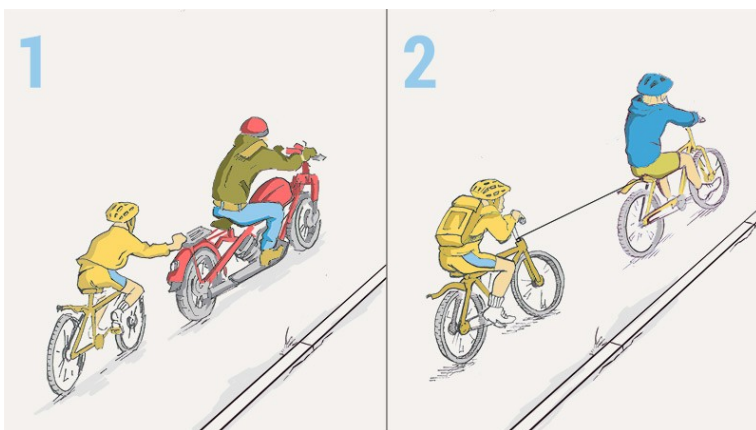
14. Кто из велосипедистов нарушает правила дорожного движения при перевозке пассажиров?



- а) первый
- б) второй
- в) оба нарушают
- г) оба не нарушают

15. Нарушаются ли правила дорожного движения в изображенных ситуациях?

- а) только на первом рисунке
- б) только на втором рисунке
- в) на обоих нарушаются
- г) на обоих не нарушаются



16. Кто из велосипедистов не нарушает правила?

- а) велосипедист слева
- б) велосипедист справа
- в) оба велосипедиста



17. Указать соответствующими буквами на рисунке составные части велосипеда:

а) вилка; б) подседельный штырь; в) педаль; г) кассета трещётки; д) тормозные ручки; е) задний переключатель; ж) рама; з) задний щиток; и) монетки; к) вынос руля

